

# XLV Rajd na Orientację ORIENT 2022

Warszawa Młociny, 6 stycznia 2022



Trasa TZ



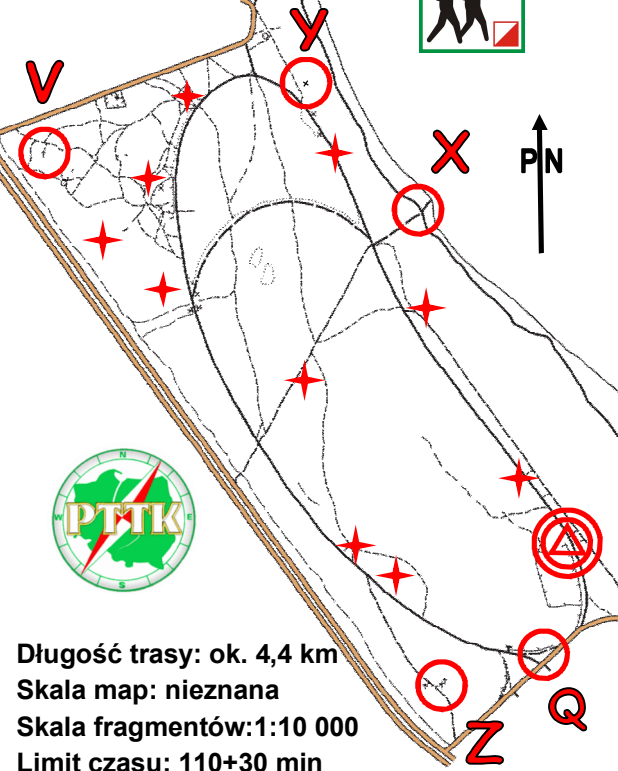
**UWAGA !!!** W terenie są dwa rodzaje lampionów dla trasy turystycznej:

- 1.- płaskie z kredką, w potwierdzeniu wpisujemy kredką oznaczenie PK z mapy, oraz kod z lampionu,
- 2.- słupki ZPK ( Zielony Punkt Kontrolny) wpisujemy długopisem oznaczenie PK z mapy i odbijamy obok perforator.

**Lampiony sportowe (biegowe) nie są punktami trasy turystycznej.** Czerwonymi gwiazdkami zaznaczono położenie środka fragmentów map w okręgach. Pochodzą one z trzech różnych map i są zorientowane do płn.

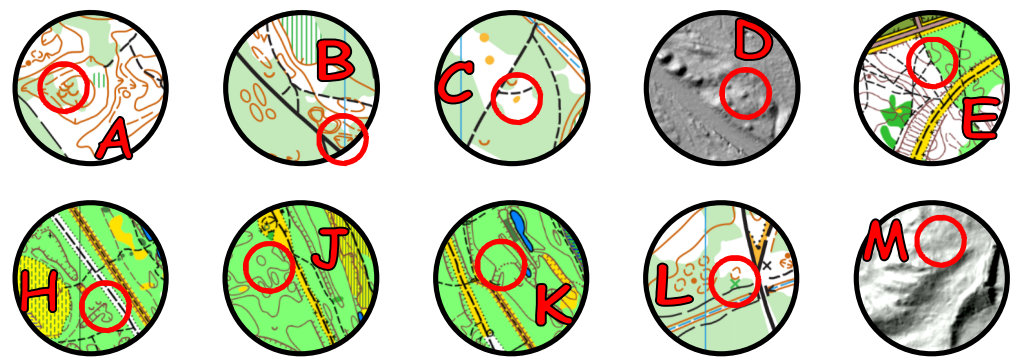
**PK X,Y,V,Z,Q** - odpowiedź na pytanie.  
**X**- ile osób stoi na pokładzie statku (zdjęcie na plakacie reklamowym)?  
**Y**- ile dzików namalowano na tablicy?  
**V**- ile lat mieli rozstrzelani mężczyźni?  
**Z**- nazwę jakiego miasta, położonego najdalej na wschód, umieszczono na jednym z kamieni?  
**Q**- ile przyrządów do ćwiczeń ustawiono na siłowni plenerowej?

Należy potwierdzić **15 PK**.  
**Zad 1:** podaj azymut z PK K na PK B (+/- 1st. = 1 pkt karny)  
**Zad 2:** na ile obwodów zostały podzielone Lasy Miejskie? (Tablica „Ścieżka Przyrodnicza”)



Długość trasy: ok. 4,4 km  
 Skala map: nieznana  
 Skala fragmentów: 1:10 000  
 Limit czasu: 110+30 min

Trzy mapy na Trzech Króli



opr. Wojciech Drozda PlnO nr leg. 473

# XLV Rajd na Orientację ORIENT 2022

Warszawa Młociny, 6 stycznia 2022



Trasa TZ



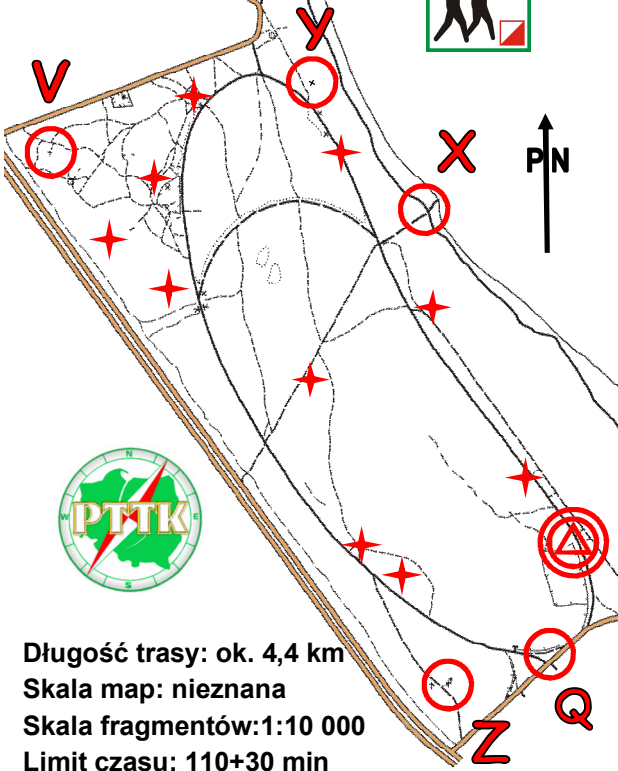
**UWAGA !!!** W terenie są dwa rodzaje lampionów dla trasy turystycznej:

- 1.- płaskie z kredką, w potwierdzeniu wpisujemy kredką oznaczenie PK z mapy, oraz kod z lampionu,
- 2.- słupki ZPK ( Zielony Punkt Kontrolny) wpisujemy długopisem oznaczenie PK z mapy i odbijamy obok perforator.

**Lampiony sportowe (biegowe) nie są punktami trasy turystycznej.** Czerwonymi gwiazdkami zaznaczono położenie środka fragmentów map w okręgach. Pochodzą one z trzech różnych map i są zorientowane do płn.

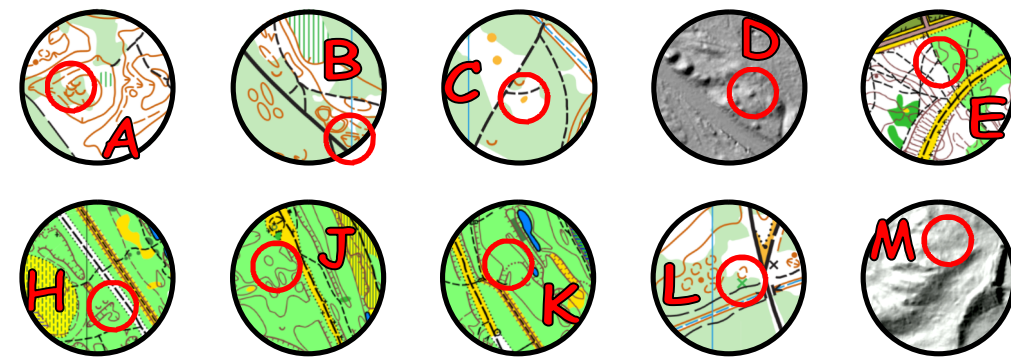
**PK X,Y,V,Z,Q** - odpowiedź na pytanie.  
**X**- ile osób stoi na pokładzie statku (zdjęcie na plakacie reklamowym)?  
**Y**- ile dzików namalowano na tablicy?  
**V**- ile lat mieli rozstrzelani mężczyźni?  
**Z**- nazwę jakiego miasta, położonego najdalej na wschód, umieszczono na jednym z kamieni?  
**Q**- ile przyrządów do ćwiczeń ustawiono na siłowni plenerowej?

Należy potwierdzić **15 PK**.  
**Zad 1:** podaj azymut z PK K na PK B (+/- 1st. = 1 pkt karny)  
**Zad 2:** na ile obwodów zostały podzielone Lasy Miejskie? (Tablica „Ścieżka Przyrodnicza”)



Długość trasy: ok. 4,4 km  
 Skala map: nieznana  
 Skala fragmentów: 1:10 000  
 Limit czasu: 110+30 min

Trzy mapy na Trzech Króli



opr. Wojciech Drozda PlnO nr leg. 473