

XLV Rajd na Orientację ORIENT 2022

Warszawa Młociny, 6 stycznia 2022



Trasa **TU**



UWAGA !!! W terenie są dwa rodzaje lampionów dla trasy turystycznej:
 1.- płaskie z kredką, w potwierdzeniu wpisujemy kredką oznaczenie PK z mapy, oraz kod z lampionu,
 2.- słupki ZPK (Zielony Punkt Kontrolny) wpisujemy długopisem oznaczenie PK z mapy i odbijamy obok perforator.

Lampiony sportowe (biegowe) nie są punktami trasy turystycznej.

Czerwonymi gwiazdkami zaznaczono położenie środka fragmentów map w okręgach.

Pochodzą one z trzech różnych map i są zorientowane do północy

PK X,Y,V,Z,Q - odpowiedź na pytanie.

X- ile osób stoi na pokładzie statku (zdjęcie na plakacie reklamowym)?

Y- ile dzików namalowano na tablicy?

V- ile lat mieli rozstrzelani mężczyźni?

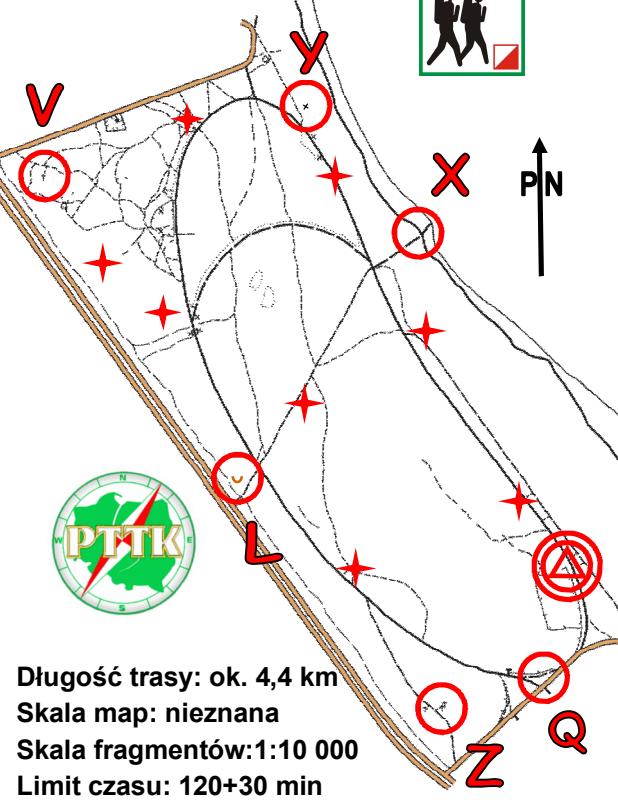
Z- nazwę jakiego miasta, położonego najdalej na wschód, umieszczono na jednym z kamieni?

Q- ile przyrządów do ćwiczeń ustawiono na siłowni plenerowej?

Należy potwierdzić **14 PK**.

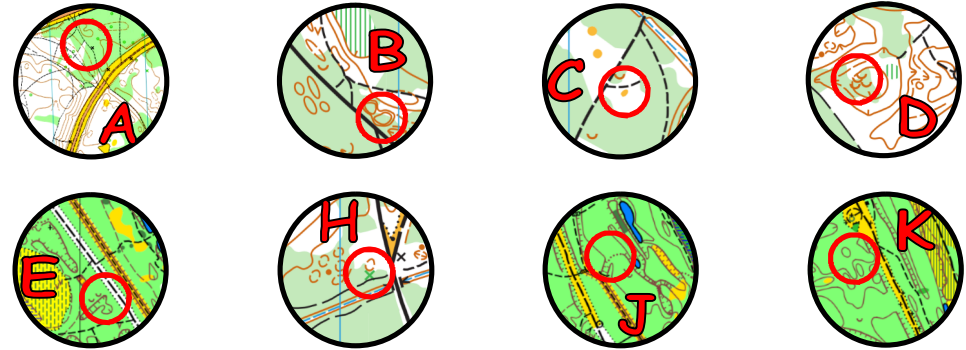
Zad 1: podaj azymut z **PK V** na **PK B** (+/- 1st. = 1 pkt karny)

Zad 2: ile szlaków turystycznych przebiega przez teren rajdu?



Długość trasy: ok. 4,4 km
 Skala map: nieznana
 Skala fragmentów: 1:10 000
 Limit czasu: 120+30 min

Trzy mapy na Trzech Króli



XLV Rajd na Orientację ORIENT 2022

Warszawa Młociny, 6 stycznia 2022



Trasa **TU**



UWAGA !!! W terenie są dwa rodzaje lampionów dla trasy turystycznej:
 1.- płaskie z kredką, w potwierdzeniu wpisujemy kredką oznaczenie PK z mapy, oraz kod z lampionu,
 2.- słupki ZPK (Zielony Punkt Kontrolny) wpisujemy długopisem oznaczenie PK z mapy i odbijamy obok perforator.

Lampiony sportowe (biegowe) nie są punktami trasy turystycznej.

Czerwonymi gwiazdkami zaznaczono położenie środka fragmentów map w okręgach.

Pochodzą one z trzech różnych map i są zorientowane do północy

PK X,Y,V,Z,Q - odpowiedź na pytanie.

X- ile osób stoi na pokładzie statku (zdjęcie na plakacie reklamowym)?

Y- ile dzików namalowano na tablicy?

V- ile lat mieli rozstrzelani mężczyźni?

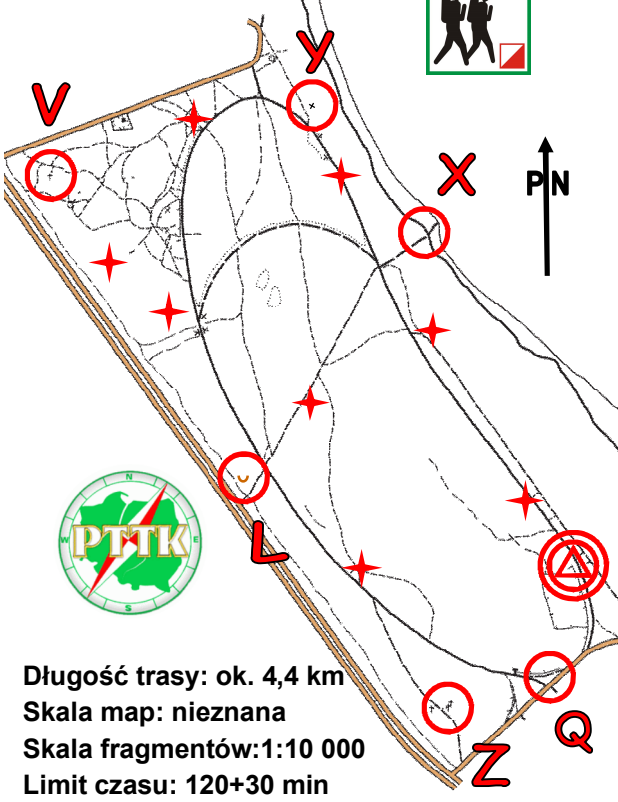
Z- nazwę jakiego miasta, położonego najdalej na wschód, umieszczono na jednym z kamieni?

Q- ile przyrządów do ćwiczeń ustawiono na siłowni plenerowej?

Należy potwierdzić **14 PK**.

Zad 1: podaj azymut z **PK V** na **PK B** (+/- 1st. = 1 pkt karny)

Zad 2: ile szlaków turystycznych przebiega przez teren rajdu?



Długość trasy: ok. 4,4 km
 Skala map: nieznana
 Skala fragmentów: 1:10 000
 Limit czasu: 120+30 min

Trzy mapy na Trzech Króli

