

XLIV Rajd na Orientację ORIENT 2021

Otwock - Meran, 21 lutego 2021

21 luty - Międzynarodowy Dzień Języka Ojczystego

Na mapie podkładowej ze startem i metą, czerwonymi kropkami zaznaczono miejsca położenia fragmentów w kształcie liter. Litery są zorientowane z północą. W potwierdzeniu podaj oznaczenie PK, oraz kod z lampionu. Kolejność potwierdzeń dowolna. Należy potwierdzić **13 PK**.

Zad: Podaj azymut z PK O (+/- 1 stopień = 1 pkt.)

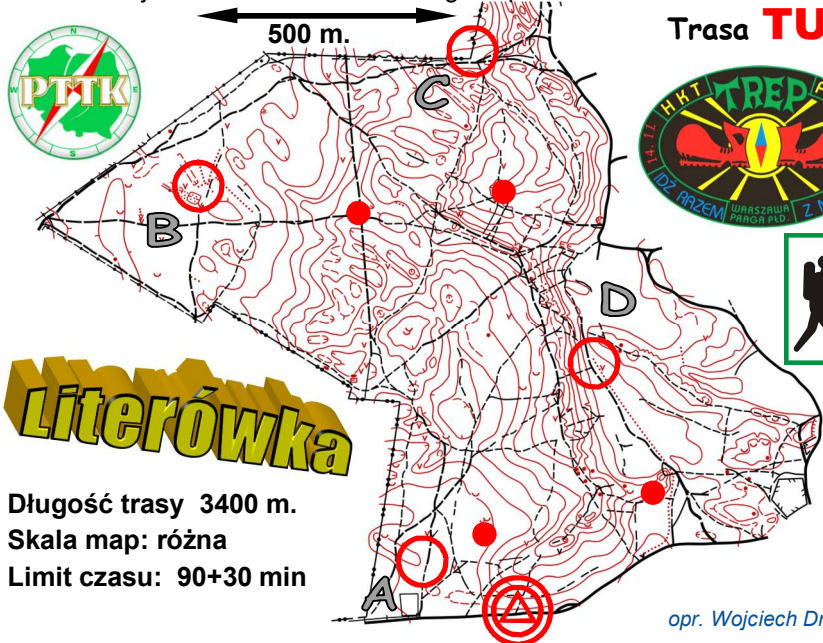
PK C,D,K nie mają lampionów, należy odpowiedzieć na pytanie.

PK C: Jaka jest największa liczba na muralu?

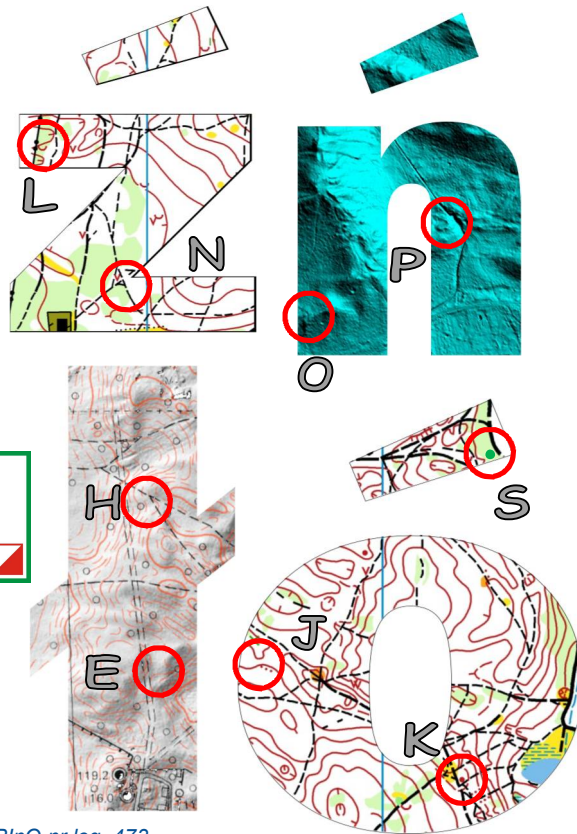
PK D: Jakiego koloru jest tabliczka wisząca na złamanym drzewie?

PK S: Z ilu liter składa się napis na zielonej tabliczce?

PK K: Jaka jest trzecia litera niebieskiego napisu na drzewie?



Trasa **TU**



opr. Wojciech Drozda PlnO nr leg. 473

XLIV Rajd na Orientację ORIENT 2021

Otwock - Meran, 21 lutego 2021

21 luty - Międzynarodowy Dzień Języka Ojczystego

Na mapie podkładowej ze startem i metą, czerwonymi kropkami zaznaczono miejsca położenia fragmentów w kształcie liter. Litery są zorientowane z północą. W potwierdzeniu podaj oznaczenie PK, oraz kod z lampionu. Kolejność potwierdzeń dowolna. Należy potwierdzić **13 PK**.

Zad: Podaj azymut z PK O (+/- 1 stopień = 1 pkt.)

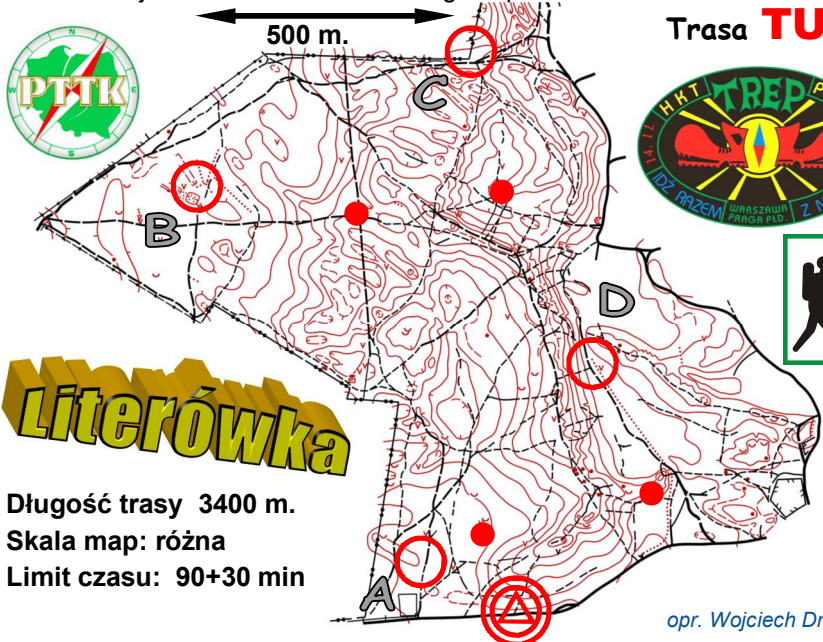
PK C,D,K nie mają lampionów, należy odpowiedzieć na pytanie.

PK C: Jaka jest największa liczba na muralu?

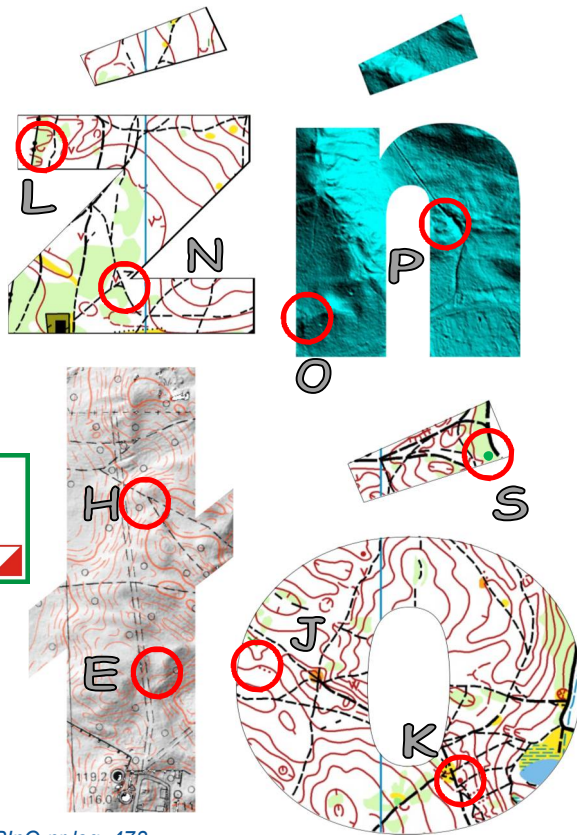
PK D: Jakiego koloru jest tabliczka wisząca na złamanym drzewie?

PK S: Z ilu liter składa się napis na zielonej tabliczce?

PK K: Jaka jest trzecia litera niebieskiego napisu na drzewie?



Trasa **TU**



opr. Wojciech Drozda PlnO nr leg. 473