

XLIV Rajd na Orientację ORIENT 2021

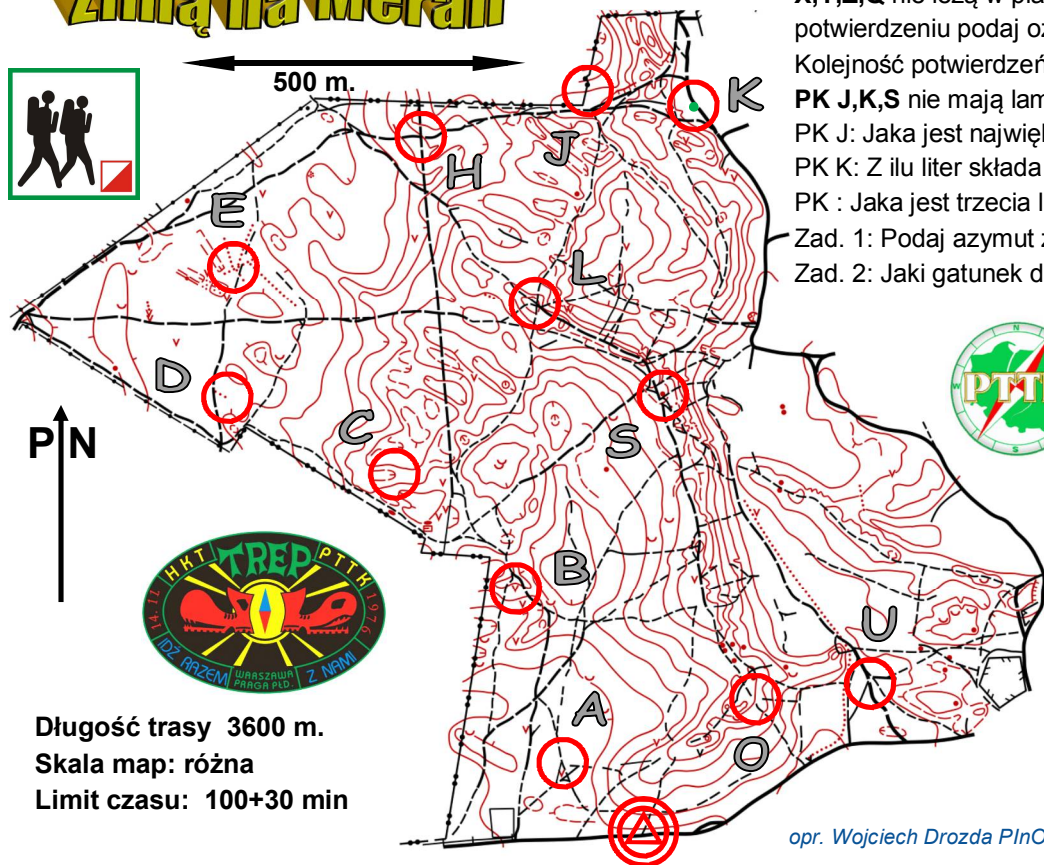
Otwock - Meran, 21 lutego 2021

21 luty - Międzynarodowy Dzień Języka Ojczystego

Zimą na Meran Trasa TP

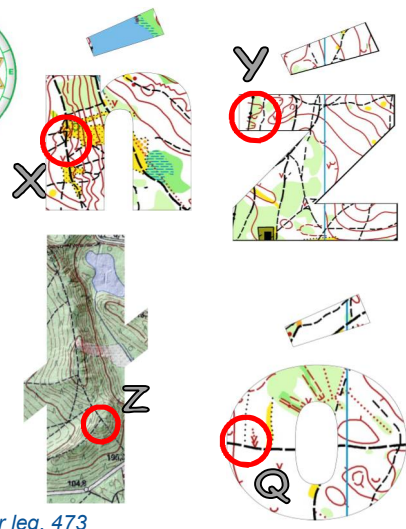


500 m.



Długość trasy 3600 m.
Skala map: różna
Limit czasu: 100+30 min

Mapa podkładowa nie zawiera pełnej treści. Fragmenty z PK X,Y,Z,Q nie leżą w planie mapy, należy je dopasować. W potwierdzeniu podaj oznaczenie PK, oraz kod z lampionu. Kolejność potwierżeń dowolna. Należy potwierdzić **15 PK**.
PK J,K,S nie mają lampionów, należy odpowiedzieć na pytania.
PK J: Jaka jest największa liczba na muralu?
PK K: Z ilu liter składa się napis na zielonej tabliczce?
PK : Jaka jest trzecia litera niebieskiego napisu na drzewie?
Zad. 1: Podaj azymut z PK U na PK D.(+/- 1 stopień = 1 pkt.)
Zad. 2: Jaki gatunek drzewa jest pomnikiem przyrody na trasie?



opr. Wojciech Drozda PlnO nr leg. 473

XLIV Rajd na Orientację ORIENT 2021

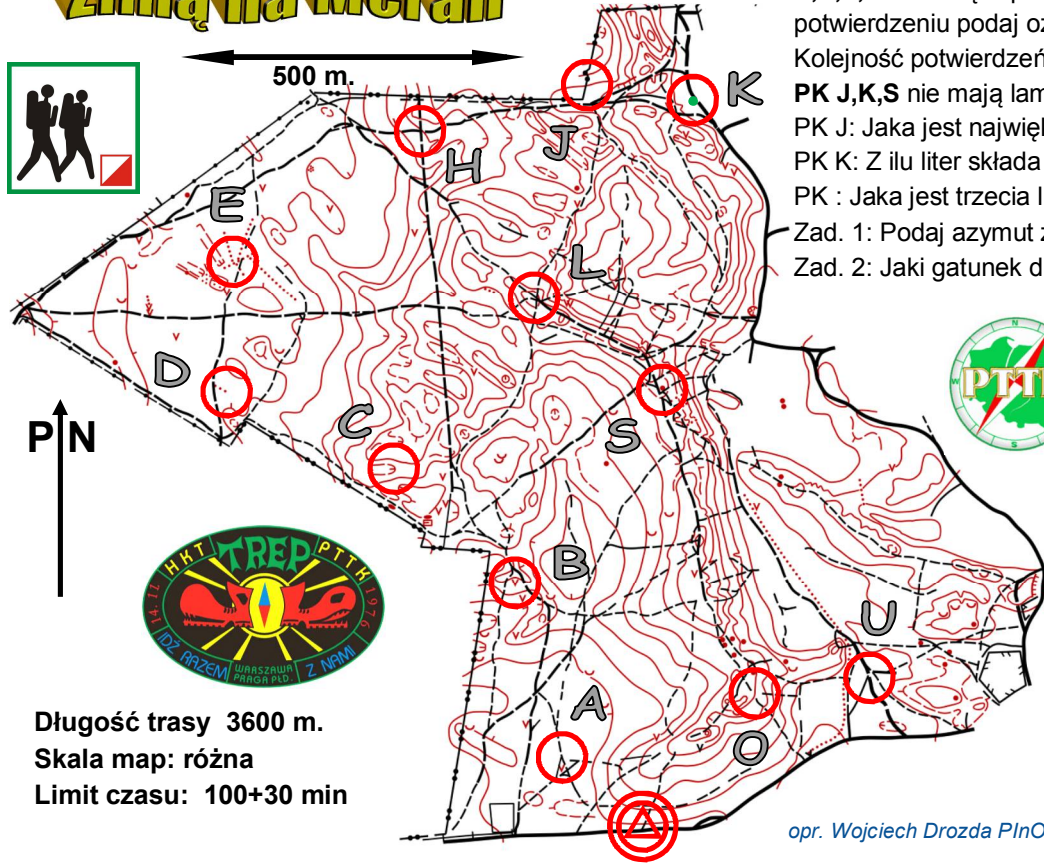
Otwock - Meran, 21 lutego 2021

21 luty - Międzynarodowy Dzień Języka Ojczystego

Zimą na Meran Trasa TP

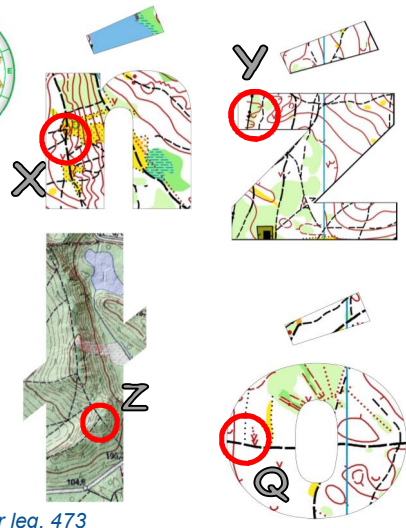


500 m.



Długość trasy 3600 m.
Skala map: różna
Limit czasu: 100+30 min

Mapa podkładowa nie zawiera pełnej treści. Fragmenty z PK X,Y,Z,Q nie leżą w planie mapy, należy je dopasować. W potwierdzeniu podaj oznaczenie PK, oraz kod z lampionu. Kolejność potwierżeń dowolna. Należy potwierdzić **15 PK**.
PK J,K,S nie mają lampionów, należy odpowiedzieć na pytania.
PK J: Jaka jest największa liczba na muralu?
PK K: Z ilu liter składa się napis na zielonej tabliczce?
PK : Jaka jest trzecia litera niebieskiego napisu na drzewie?
Zad. 1: Podaj azymut z PK U na PK D.(+/- 1 stopień = 1 pkt.)
Zad. 2: Jaki gatunek drzewa jest pomnikiem przyrody na trasie?



opr. Wojciech Drozda PlnO nr leg. 473